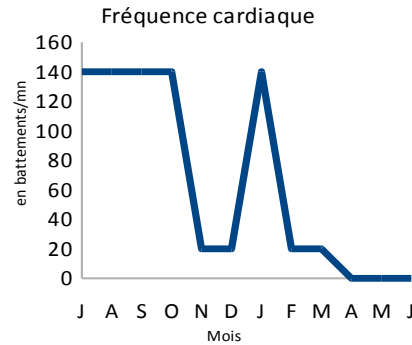
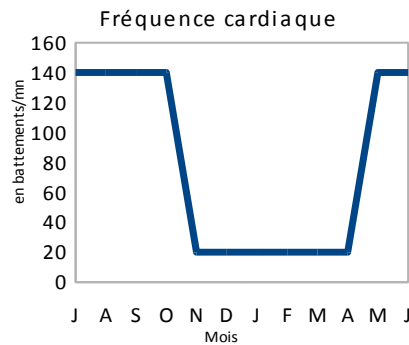
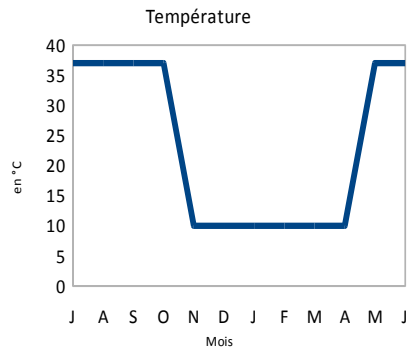
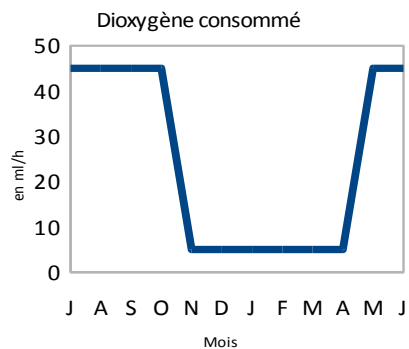
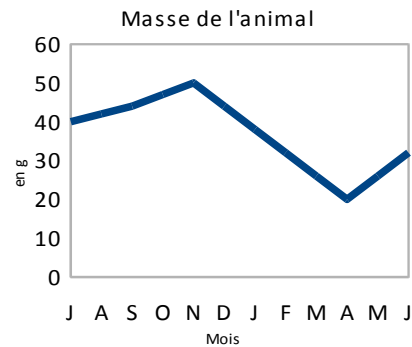
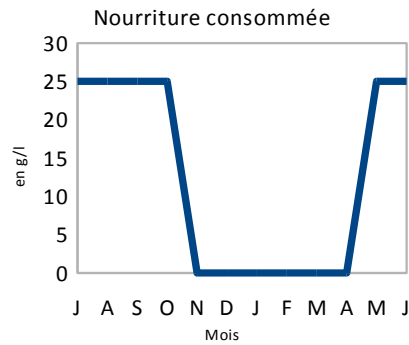




Les chauves-souris (2)



1°) Citer les cinq caractéristiques d'une chauve-souris qui est en hibernation (**S'informer**)

2°) Comparer les deux derniers graphiques (**Raisonner**)

- En quoi sont-ils différents?
- Proposer une explication
- Quel est le devenir de la chauve-souris ?
- Proposer une explication

3°) Les spéléologues se sont fixés une règle lorsqu'ils explorent les grottes l'hiver. En vous appuyant sur l'analyse des graphiques, formuler cette règle.

